

Stammfunktionen

Achtung: Aufgabe 4 zur Flächenberechnung und Aufgabe 1 ur Integralfunktionen geändert!

1. Bestimme eine Stammfunktion

a) $f(x) = \frac{(x+1)^2}{2x}$ b) $f(x) = \frac{x+1}{\sqrt{x}}$ c) $f(x) = (e^{2x} - e^{-x})^2$

2. Bestimme eine Stammfunktion

a) $f(x) = \frac{x}{x^2+1}$ b) $f(x) = \frac{1}{e^{-x}+1}$ c) $f(x) = \frac{1}{x \cdot \ln x} = \frac{1}{\frac{x}{\ln x}}$ d) $\int \frac{2x-1}{4x^2-1} dx$

3. Bestimme eine Stammfunktion

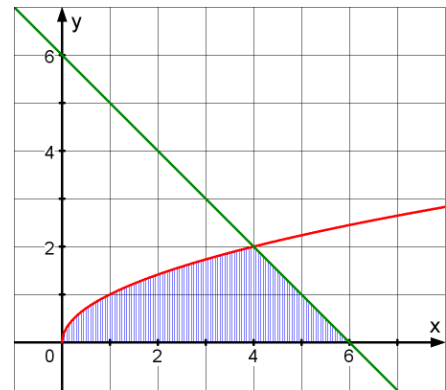
a) $f(x) = e^{1-2x}$ b) $f(x) = \sin x \cdot \cos x$ c) $f(x) = \frac{1}{\sqrt[3]{2x-1}}$

Flächenberechnung

1. Bestimme a so, dass der Graph von $f: x \rightarrow a \cdot x^2 - 4$ mit der x-Achse eine Fläche mit dem Inhalt $10\frac{2}{3}$ FE einschließt.

2. Berechnen Sie den Inhalt der schraffierten Fläche zwischen der x-Achse und den Graphen der Funktionen

$f: x \rightarrow \sqrt{x}$ und $g: x \rightarrow 6-x$

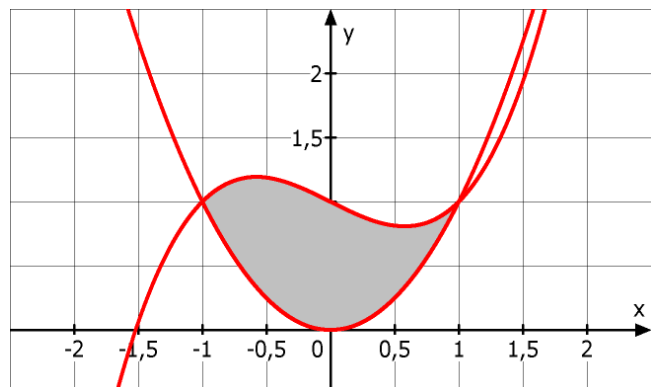


3. Gegeben sind die Funktionen f und g mit

$f: x \rightarrow \frac{1}{2}x^3 - \frac{1}{2}x + 1$

und

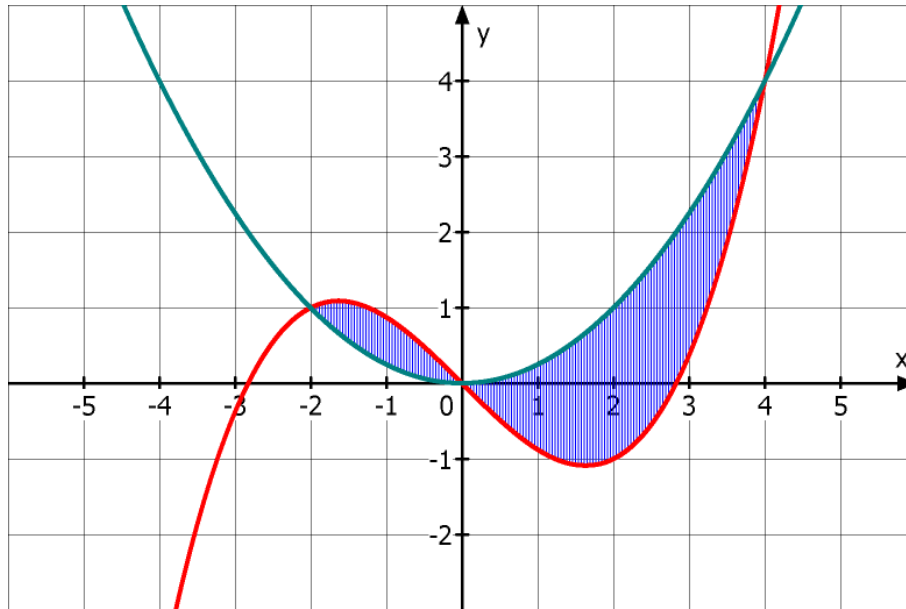
$g(x) = \frac{1}{2}x^2.$



Bestimme den Inhalt der schraffierten Fläche.

4. Berechne den Inhalt der Fläche, die vom Graphen der Funktion f mit $f(x) = x - 2 + \frac{6}{x+5}$ und der x -Achse eingeschlossen wird.

5.



Das Bild zeigt die Graphen von $f : x \rightarrow \frac{1}{8}x^3 - x$ und $h : x \rightarrow \frac{1}{4}x^2$.

Berechne die Inhalte der beiden schraffierten Flächen.

$$\int_{-2}^0 \left(\frac{1}{8}x^3 - x - \frac{1}{4}x^2 \right) dx = \left[\frac{1}{32}x^4 - \frac{1}{2}x^2 - \frac{1}{12}x^3 \right]_{-2}^0 = -\left(\frac{1}{2} - 2 + \frac{2}{3} \right) = \frac{5}{6} \Rightarrow A_1 = \frac{5}{6}$$

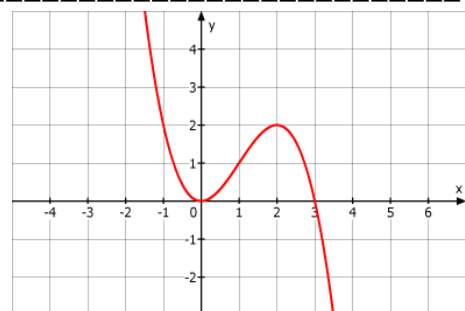
$$\int_0^4 \left(\frac{1}{8}x^3 - x - \frac{1}{4}x^2 \right) dx = \left[\frac{1}{32}x^4 - \frac{1}{2}x^2 - \frac{1}{12}x^3 \right]_0^4 = 8 - 8 - \frac{16}{3} \Rightarrow A_2 = \frac{16}{3}$$

Integralfunktionen

1. Die Abbildung zeigt den Graphen einer Funktion f .

a) Welche Aussagen ergeben sich hieraus für die

$$\text{Integralfunktion } I_a : x \rightarrow I_a(x) = \int_a^x f(t) dt$$



im Hinblick auf Monotonie und Extremstellen

b) Begründen Sie, dass I_a in Abhängigkeit von a eine, zwei aber keine drei Nullstellen besitzen kann und geben jeweils ein Beispiel.

c) Zeigen Sie den Graphen von I_{-1} in das Koordinatensystem

1. a) Monotonie: I_a ist in $] -\infty; 3]$ sms und in $[3; \infty[$ smsf

Extremstelle: $x = 3$

b) Nur eine Nullstelle, wenn sonst kein Flächenausgleich möglich ist: $a = 3$

Zwei Nullstellen, wenn zusätzlicher Flächenausgleich möglich ist: $a = 0$

Drei Nullstellen sind nicht möglich, da maximal nur einmal Flächenausgleich möglich ist.

Lösung

Stammfunktionen

$$1. a) f(x) = \frac{(x+1)^2}{2x} = \frac{x^2+2x+1}{2x} = \frac{1}{2}x+1 + \frac{1}{2x} \Rightarrow F(x) = \frac{1}{4}x^2 + x + \frac{1}{2}\ln|x|$$

$$b) f(x) = \frac{x+1}{\sqrt{x}} = \sqrt{x} + \frac{1}{\sqrt{x}} = x^{\frac{1}{2}} + x^{-\frac{1}{2}} \Rightarrow F(x) = \frac{x^{\frac{3}{2}}}{\frac{3}{2}} + \frac{x^{\frac{1}{2}}}{\frac{1}{2}} = \frac{2}{3}x^{\frac{3}{2}} + 2x^{\frac{1}{2}}$$

$$c) f(x) = (e^{2x} - e^{-x})^2 = e^{4x} - 2e^x + e^{-2x} \Rightarrow F(x) = \frac{1}{4}e^{4x} - 2e^x - \frac{1}{2}e^{-2x}$$

2. Bestimme eine Stammfunktion

$$a) f(x) = \frac{x}{x^2+1} = \frac{1}{2} \cdot \frac{2x}{x^2+1} \Rightarrow F(x) = \frac{1}{2}\ln(x^2+1)$$

$$b) f(x) = \frac{1}{e^{-x}+1} \stackrel{\text{Erweitern}}{=} \frac{e^x}{(e^{-x}+1) \cdot e^x} = \frac{e^x}{1+e^x} \Rightarrow F(x) = \ln(1+e^x)$$

$$c) f(x) = \frac{1}{x \cdot \ln x} = \frac{\frac{1}{x}}{\ln x} \Rightarrow F(x) = \ln|\ln x|$$

$$d) f(x) = \frac{2x-1}{4x^2-1} = \frac{2x-1}{(2x+1)(2x-1)} = \frac{1}{2x+1} \Rightarrow F(x) = \frac{1}{2} \cdot \ln|2x+1|$$

3. Bestimme eine Stammfunktion

$$\text{a) } f(x) = e^{1-2x} \Rightarrow F(x) = -\frac{1}{2} \cdot e^{1-2x}$$

$$\text{b) } f(x) = \sin x \cdot \cos x \Rightarrow F(x) = \frac{1}{2} \cdot \sin^2 x$$

$$\text{c) } f(x) = \frac{1}{\sqrt[3]{2x-1}} = (2x-1)^{-\frac{1}{3}} \Rightarrow F(x) = \frac{1}{2} \cdot \frac{(2x-1)^{\frac{2}{3}}}{\frac{2}{3}} = \frac{3}{4} \cdot (2x-1)^{\frac{2}{3}}$$

Flächenberechnung

$$1. \text{ Nullstellen: } a \cdot x^2 - 4 = 0 \Rightarrow x^2 = \frac{4}{a} \Rightarrow x = -\frac{2}{\sqrt{a}} \vee x = \frac{2}{\sqrt{a}} \text{ falls } a > 0$$

$$\int_0^{\frac{2}{\sqrt{a}}} (ax^2 - 4) dx = \left[\frac{a}{3} x^3 - 4x \right]_0^{\frac{2}{\sqrt{a}}} = \frac{8}{3\sqrt{a}} - \frac{8}{\sqrt{a}} = -\frac{16}{3\sqrt{a}}$$

$$A(a) = \frac{16}{3\sqrt{a}}$$

$$\text{Bedingung: } \frac{16}{3\sqrt{a}} = 5\frac{1}{3} \Rightarrow a = 1$$

$$2. \int_0^4 \sqrt{x} dx = \int_0^4 x^{\frac{1}{2}} dx = \left[\frac{x^{\frac{3}{2}}}{\frac{3}{2}} \right]_0^4 = \left[\frac{2}{3} x^{\frac{3}{2}} \right]_0^4 = \frac{16}{3} \text{ und damit } A = \frac{16}{3} + 2 = \frac{22}{3} = 7\frac{1}{3}$$

$$3. \int_{-1}^1 \left(\frac{1}{2} x^3 - \frac{1}{2} x + 1 - \frac{1}{2} x^2 \right) dx = \left[\frac{1}{8} x^4 - \frac{1}{4} x^2 + x - \frac{1}{6} x^3 \right]_{-1}^1 =$$

$$= \left(\frac{1}{8} - \frac{1}{4} + 1 - \frac{1}{6} \right) - \left(\frac{1}{8} - \frac{1}{4} - 1 + \frac{1}{6} \right) = \frac{4}{3}$$

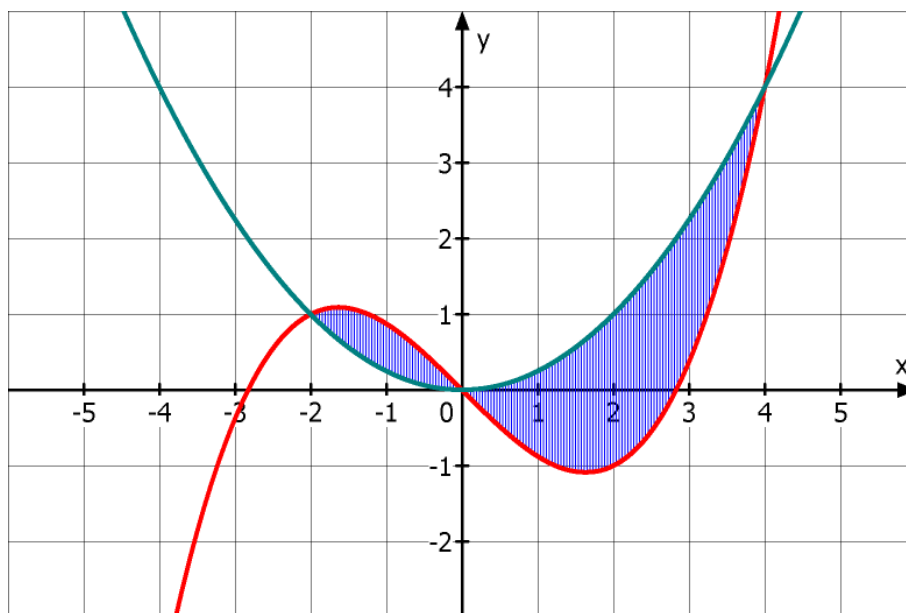
$$4. \text{ Nullstellen: } x - 2 + \frac{6}{x+5} = 0 \Leftrightarrow (x-2)(x+5) + 6 = 0 \Leftrightarrow x^2 + 5x - 2x - 10 + 6 = 0$$

$$\Leftrightarrow x = -4 \vee x = 1$$

$$\int_{-4}^1 \left(x - 2 + \frac{6}{x+5}\right) dx = \left[\frac{1}{2}x^2 - 2x + 6 \cdot \ln|x+5| \right]_{-4}^1 = \left(\frac{1}{2} - 2 + 6 \cdot \ln 6\right) - (8 + 8 + 0) =$$

$$= -14,5 + 6 \cdot \ln 6 < 0 \Rightarrow A = 6 \cdot \ln 6 - 14,5$$

5.



Das Bild zeigt die Graphen von $f: x \rightarrow \frac{1}{8}x^3 - x$ und $h: x \rightarrow \frac{1}{4}x^2$.

Berechne die Inhalte der beiden schraffierten Flächen.

Integralfunktionen

1. Die Abbildung zeigt den Graphen einer Funktion f .

a) Welche Aussagen ergeben sich hieraus für die

$$\text{Integralfunktion } I_a: x \rightarrow I_a(x) = \int_a^x f(t) dt$$

im Hinblick auf Monotonie und Extremstellen

b) Begründen Sie, dass I_a in Abhängigkeit von a eine, zwei oder drei Nullstellen besitzen kann und geben jeweils ein Beispiel.

c) Zeigen Sie den Graphen von I_{-1} in das Koordinatensystem

